

KAN DU DET HÄR? - KAP 3

1 Vilken siffra är inte symmetrisk?

A: 5 B: 3 C: 0 D: 8

ETT

2 Hur många centimeter är 1,5 dm?

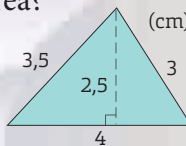
A: 0,15 cm B: 15 cm C: 150 cm D: 1 500 cm

3 Vilken vinkel är störst?



4 Hur stor är triangelns area?

A: 10 cm^2 B: $10,5 \text{ cm}^2$
C: 13 cm^2 D: 5 cm^2



TVÅ

5 Hur många millimeter är 0,7 m?

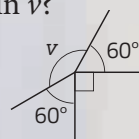
A: 7 mm B: 70 mm C: 700 mm D: 7 000 mm

6 På en bild är ett gem 4,5 cm långt. Hur långt är gemet i verkligheten om skalan är 3 : 1?

A: 15 mm B: 30 mm C: 60 mm D: 13,5 cm

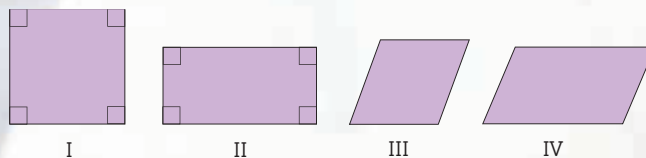
7 Hur många grader är vinkeln ν ?

A: 120° B: 130°
C: 140° D: 150°



TRE

8 Vilken eller vilka av figurerna är rektanglar?



A: Figur II B: Figur I och II
C: Figur I, II och IV D: Alla

9 Vilken sträcka är längst?

A: 1,2 km B: 0,9 mil C: 11 000 m D: $1\frac{1}{2}$ mil