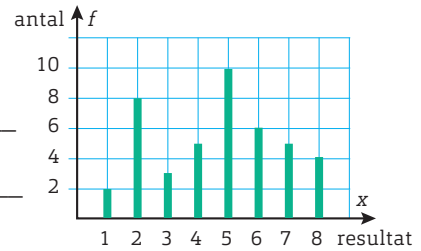



Lägesmått ur diagram

1 Diagrammet visar resultatet av kast med en 8-sidig tärning.

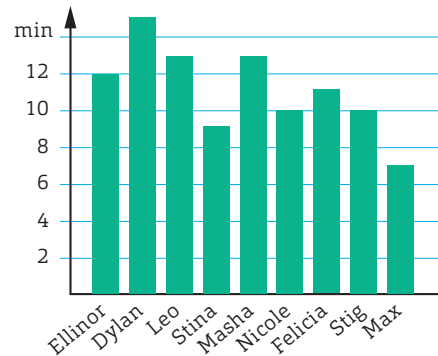


- a) Vad kallas ett sådant här diagram? _____
- b) Hur många kast är det? _____
- c) Beräkna medelvärdet. Avrunda till tiondelar.



- d) Vilket är typvärdet? _____
- e) Vilken är medianen? _____

2 Diagrammet visar hur många minuter per dag som några elever i 8C lägger på tandborstning.




- a) Vad kallas ett sådant här diagram?


- b) Vilket är typvärdet? _____



c) Hur många minuter borstade de tänderna sammanlagt?



d) Hur många minuter borstar de sina tänder i genomsnitt?
Avrunda till heltal.



e) Vilken är variationsbredden?

Lägesmått ur diagram

FACIT

- 1 a) Stolpdiagram
b) 43 st
c) 4,7
d) 5
e) 5

- 2 a) Stapeldiagram
b) 13 min och 10 min
c) 100 min
d) 11 min
e) 8 min