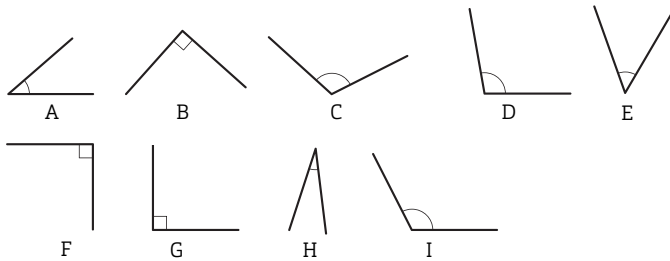


EFTER AVSNITT 3.3

1 Vilka vinklar är B

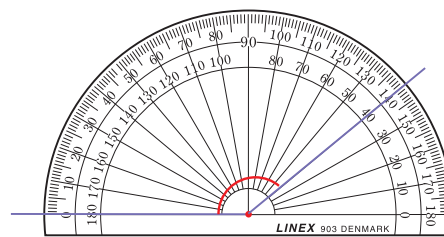
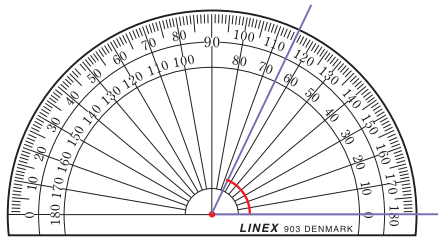
a) spetsiga _____ b) räta _____ c) trubbiga _____



2 Skriv längderna i meter. B

a) 2 km = _____ b) 2,5 km = _____ c) 0,5 km = _____


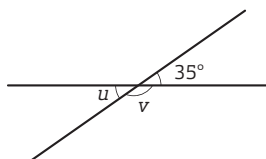
3 Hur stora är vinklarna? B



a) _____

b) _____

4 Hur stor är vinkeln a) u b) v B M K



5 Skriv volymerna i centiliter.

B

a)



b)




c)




6 ”Påsen med äpplen väger mer lite än 2 hg” säger Matilda. Stämmer det? Förklara hur du tänker.

R



7 På en ritning är Tunaskolan 8,5 cm lång. Skalan är 1 : 1 000. Hur lång är skolan i verkligheten? Svara i meter.

L B M K



8 En flaska hostmedicin innehåller 600 ml. Hur många dygn räcker flaskan om man ska ta en matsked två gånger per dygn?

L M K

1 msk (matsked) = 15 ml

