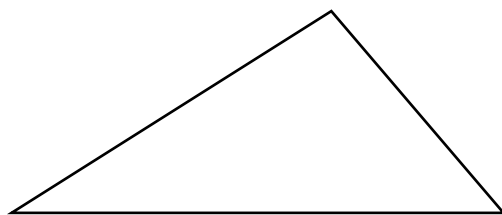


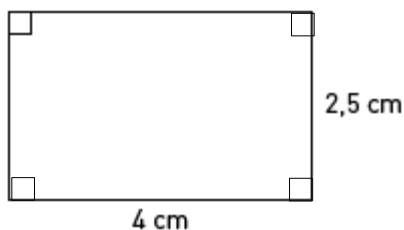
Repetition kap 2

Alla uppgifter i det här repetitionsavsnittet finns som lösta exempel i Grundvux 1–2. Intill varje uppgift står det på vilken sida du hittar exemplet. Om det är någon uppgift som du inte vet hur du ska lösa, så kan du slå upp den sidan i boken och titta på hur en lösning kan se ut.

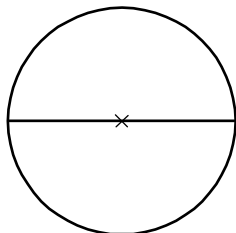
- 1** Mät sidorna och beräkna omkretsen. Sid
182



- 2** Beräkna rektangelns omkrets. 183



- 3** a) Mät längden av radien. 183
b) Räkna ut längden av diametern.
c) Ungefär hur lång omkrets har cirkeln?



- 4** Skriv längderna i meter. 188
a) 3 dm b) 7 cm c) 1 m 75 cm
- 5** Skriv längderna i centimeter. 188
a) 0,6 dm b) 3 m 2 dm c) 0,85 m
- 6** Skriv längderna i millimeter. 189
a) 0,2 cm b) 2,5 cm c) 10,3 cm

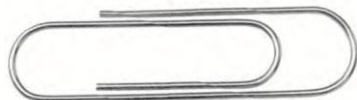
- 7** Skriv längderna i centimeter. 189
a) 7,45 m b) 3,08 m c) 4,2 m

- 8** Hur lång är pennan i verkligheten? 193



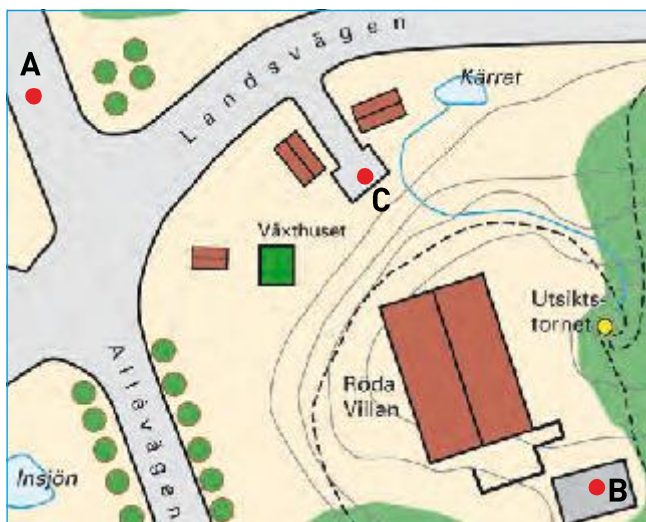
Skala 1 : 3

- 9** Hur långt är gemet i verkligheten? 194



Skala 3 : 1

- 10** Kartan är ritad i skalan 1 : 1 000. Mät fågelvägen i hela centimeter. 194
Räkna sedan ut hur långt det är i verkligheten mellan
a) A och B
b) B och C



- 11** En burk juice innehåller 25 cl. Skriv volymen i 198
a) liter b) deciliter c) milliliter

- 12** Skriv volymerna i liter. 199
a) 25 cl b) 1 liter 5 dl c) 4 liter 75 cl
- 13** En kastrull rymmer två och en halv liter. Skriv den volymen I 199
a) liter b) deciliter c) centiliter
- 14** Skriv vikterna i kilogram. 204
a) 1 kg 5 hg b) 27 hg c) 1 500 g
- 15** En elefant kan väga 4 600 kg. Skriv vikten i ton. 204
- 16** En godispåse innehåller 450 g. 205
a) Skriv vikten i hektogram.
b) Katja äter upp 2 hg. Hur mycket godis finns det sedan kvar i påsen?
- 17** Skriv vikterna i gram. 205
a) 1 kg 200 g b) 2,5 kg c) 0,9 kg
- 18** Kattungen Murre väger 4,4 hg. Hans syster Molly väger 70 g mer. 205
Hur mycket väger hon? Svara i gram.
- 19** Jemima tankade sin moped med 7,3 liter bensin. 209
Bensinen kostade 14,60 kr per liter. Jemima lämnade fram två hundrakronorssedlar när hon betalade.
Hur mycket fick hon tillbaka?

Facit Repetition kap 2

- 1** 15 cm
- 2** 13 cm
- 3** a) 1,5 cm
b) 3 cm
c) 9 cm
- 4** a) 0,3 m
b) 0,07 m
c) 1,75 m
- 5** a) 6 cm
b) 320 cm
c) 85 cm
- 6** a) 2 mm
b) 25 mm
c) 103 mm
- 7** a) 745 cm
b) 308 cm
c) 420 cm
- 8** 15 cm
- 9** 1,5 cm
- 10** a) 90 m
b) 50 m
- 11** a) 0,25 liter
b) 2,5 dl
c) 250 ml
- 12** a) 0,05 liter
b) 1,5 liter
c) 4,75 liter
- 13** a) 2,5 liter
b) 25 dl
c) 250 cl
- 14** a) 1,5 kg
b) 2,7 kg
c) 1,5 kg
- 15** 4,6 ton
- 16** a) 4,5 hg
b) 2,5 hg
- 17** a) 1 200 g
b) 2 500 g
c) 900 g
- 18** 510 g
- 19** 93 kr