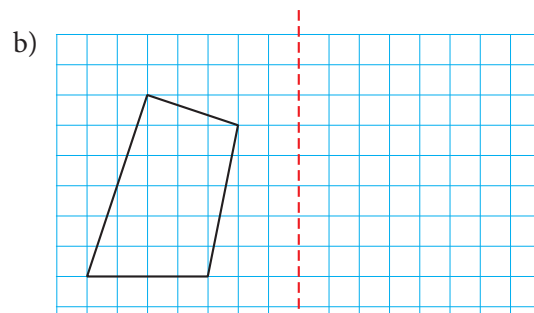
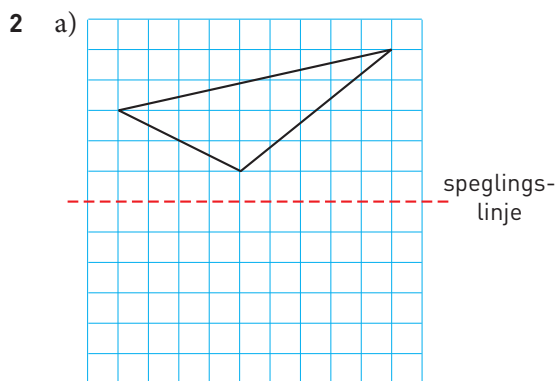
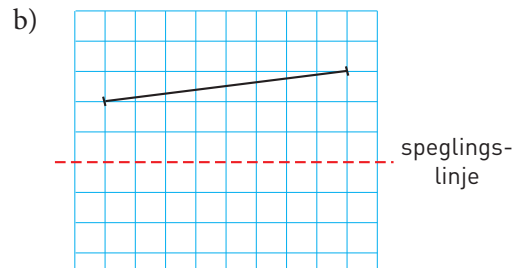
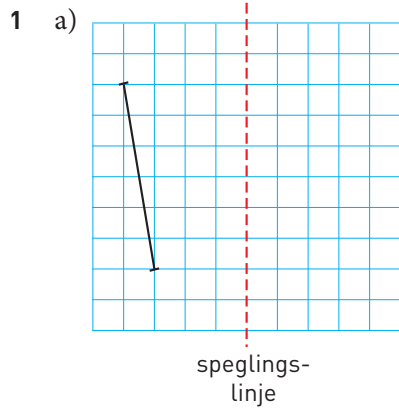


## Spegling och symmetri

Spegla figurerna i speglingslinjerna.



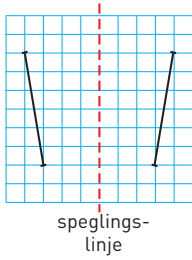
- 3 Här nedanför ser du de 29 bokstäver som ingår i vårt alfabet. Många av bokstäverna är symmetriska och några har två symmetrilinjer. Rita in alla symmetrilinjer som du hittar.

<b>A</b>	<b>B</b>	<b>C</b>	<b>D</b>	<b>E</b>	<b>F</b>	<b>G</b>
<b>H</b>	<b>I</b>	<b>J</b>	<b>K</b>	<b>L</b>	<b>M</b>	<b>N</b>
<b>O</b>	<b>P</b>	<b>Q</b>	<b>R</b>	<b>S</b>	<b>T</b>	<b>U</b>
<b>V</b>	<b>W</b>	<b>X</b>	<b>Y</b>	<b>Z</b>	<b>Å</b>	<b>Ä</b> <b>Ö</b>

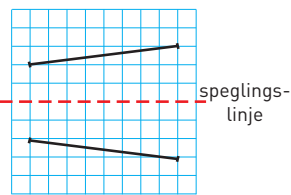
# Spegling och symmetri

**FACIT**

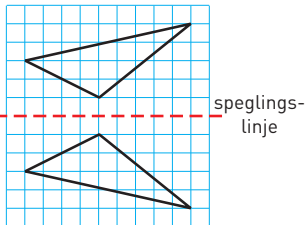
1 a)



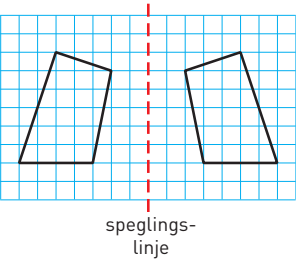
b)



2 a)



b)



3

A	B	C
D	E	H
I	K	M
O	T	U
V	W	X
Y	Å	Ä
Ö		