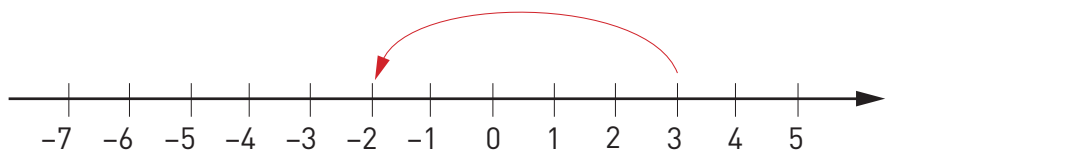


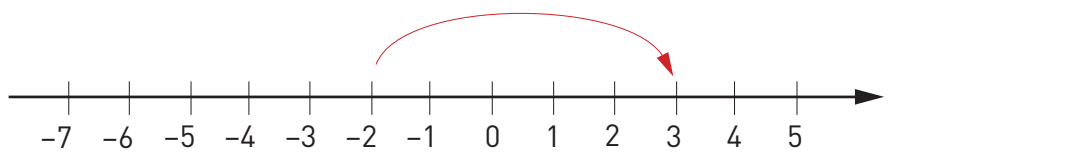
Negativa tal

Vilka uträkningar visas på tallinjerna nedan?

1



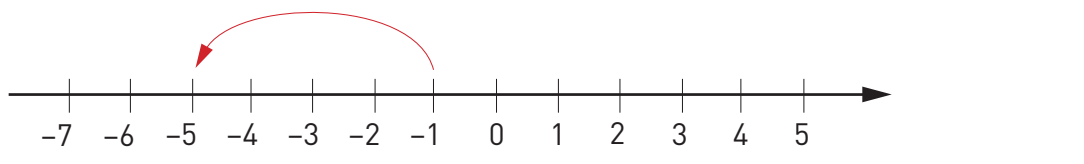
2



3



4



Beräkna med huvudräkning.

5 $5 - 8 =$ _____

6 $-6 - 2 =$ _____

7 $-2 + 7 =$ _____

8 $2 - 9 =$ _____

9 $-2 - 1 - 5 =$ _____

10 $-1 + 5 - 4 =$ _____

Vilket tecken saknas? Välj mellan $<$, $>$ och $=$.

11 0 _____ -3

12 -4 _____ -1

13 $-5 - 7$ _____ $7 - 5$

14 $-7 + 4$ _____ $-2 - 1$

15 $-5 + 11$ _____ $-4 + 1$

16 $-3 - 2$ _____ $1 - 6$

Negativa tal

FACIT

1 $3 - 5 = -2$

2 $-2 + 5 = 3$

3 $-7 + 3 = -4$

4 $-1 - 4 = -5$

5 -3

6 -8

7 5

8 -7

9 -8

10 0

11 $>$

12 $<$

13 $<$

14 $=$

15 $>$

16 $=$