



Räkna med tid 1

- 1 a) Hur mycket är klockan? _____
 b) Hur mycket är klockan om en kvart? _____
 c) Hur mycket var klockan för en halvtimme sen? _____




Eftermiddag

- 2 a) Hur mycket är klockan? _____
 b) Hur mycket är klockan om tjugo minuter? _____
 c) Hur mycket var klockan för tjugo minuter sen? _____




Förmiddag

- 3 a) Hur mycket är klockan? _____
 b) Hur mycket är klockan om en kvart? _____
 c) Hur mycket var klockan för en kvart sen? _____




Kväll


Hur lång tid är det mellan klockslagen?




Förmiddag



Eftermiddag



Kväll



Förmiddag

Räkna med tid 1**FACIT**

- 1** a) 16.25
b) 16.40
c) 15.55
- 2** a) 10.45
b) 11.05
c) 10.25
- 3** a) 19.05
b) 19.20
c) 18.50
- 4** 2 h 10 min
- 5** 2 h 45 min
- 6** 45 min
- 7** 2 h 30 min