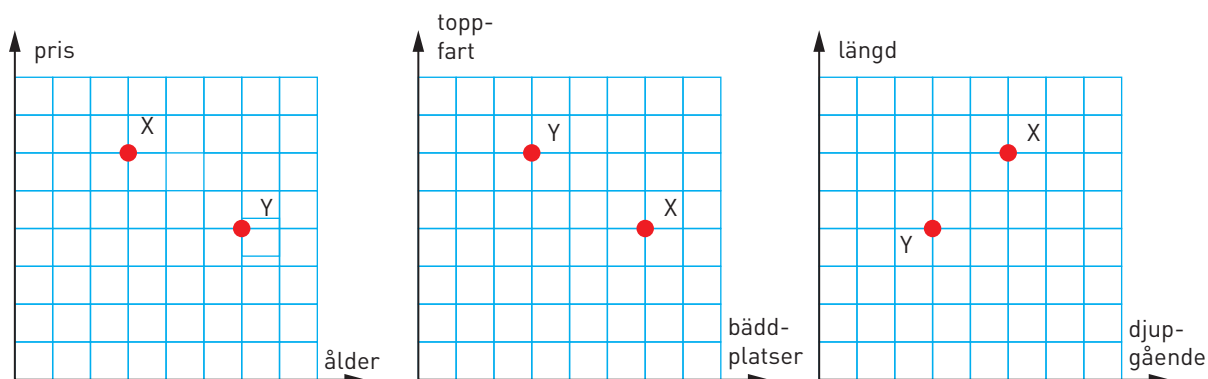


### Två båtar

X och Y är två båtar. Diagrammen ger en del information om dem.



1 Vilka av följande påståenden är sanna och vilka är falska?

A: Den äldsta båten har minst antal bäddplatser.

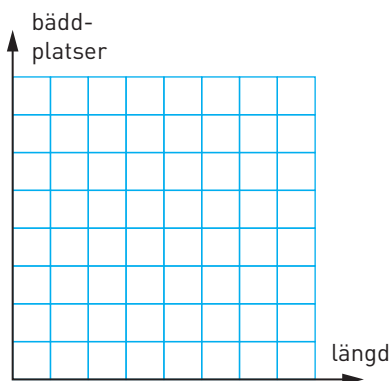
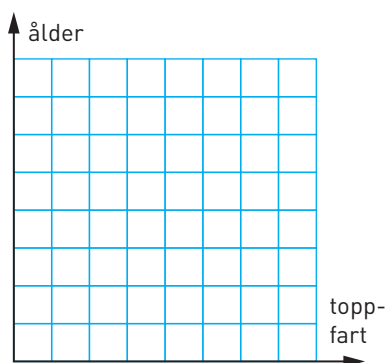
B: Den båt som går djupast är dyrast.

C: Den dyraste båten är snabbast.

D: Den längsta båten har den högsta toppfarten.

E: Den billigaste båten är längst.

2 Pricka in båtarna i diagrammen nedan.



### Två båtar

**FACIT**

1 A och B

