

Rita händelser i diagram

I de sex diagrammen här nedanför ska du rita in de sex beskrivna händelserna.

- Alexander cyklar från Lund mot Eslöv med konstant hastighet.
- Matilda går till sin kompis Emelie. Efter halva sträckan möter hon Melissa. Matilda stannar en stund och pratar med Melissa.
- På rasten går Shler till kiosken och köper godis. Hon får vänta en stund på sin tur. Därför får Shler bråttom och måste springa tillbaka till skolan.
- Från Cape Caneveral i USA lyfter en rymdfärja. Den stiger till 30 mils höjd och börjar därefter färdas i en omloppsban runt jorden.
- Niklas och Hannes springer 100 m. Hannes springer snabbare än Niklas. (Rita en graf över Niklas lopp som en heldragen linje och Hannes som en streckad linje.)
- Elin sitter i en gunga. Farfar drar upp gungan en bit och släpper den. När Elin kommer tillbaka till farfar så stannar han gungan.

Diagram 1

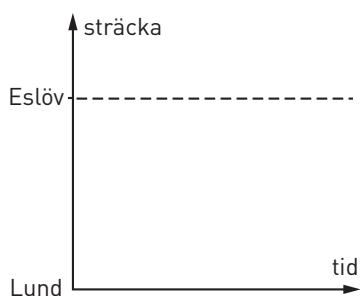


Diagram 2

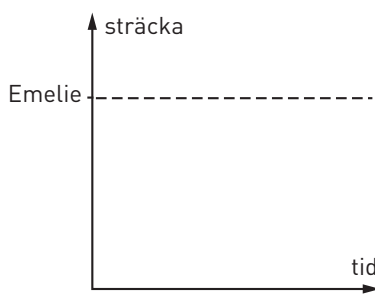


Diagram 3

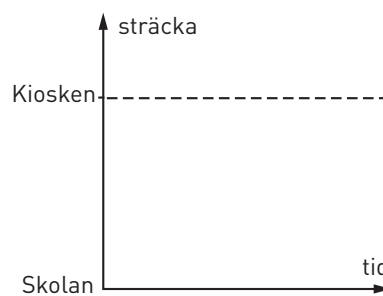


Diagram 4

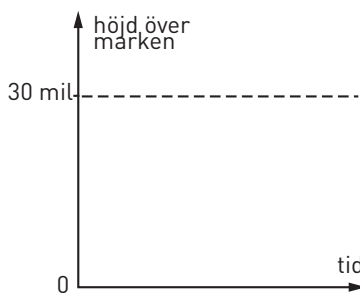


Diagram 5

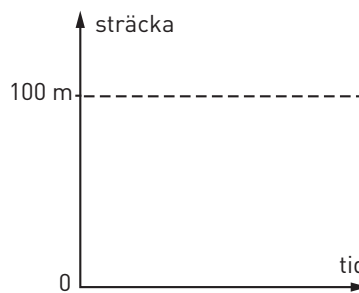
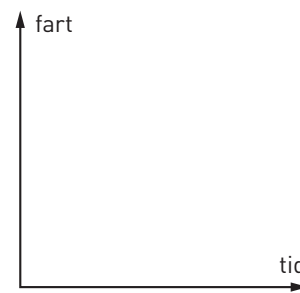


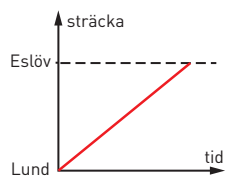
Diagram 6



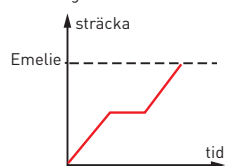
Rita händelser i diagram

FACIT

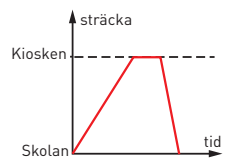
1 Diagram 1



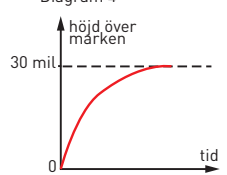
2 Diagram 2



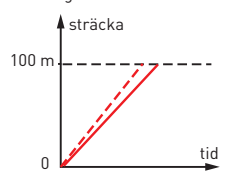
3 Diagram 3



4 Diagram 4



5 Diagram 5



6 Diagram 6

