








## Egyptiska talsystemet

I Egypten använde man för 5 000 år sedan ett talsystem där man hade 10 som bas. Talet 3 542 skrevs till exempel så här:



Symbol	Föreställer	Tal
	Pinne	1
	Hov	10
	Ringlat rep	100
	Lotusblomma	1 000
	Finger	10 000
	Groda	100 000
	Gud med armar uppåt	1 000 000

1 Skriv följande tal i det egyptiska talsystemet.

a) 192

b) 21 235


2 Skriv följande tal med siffror.



3 En farao ska korsa en öken med sina  kameler.

Resan tar  dygn och varje kamel behöver  liter vatten per dygn.

Hur mycket vatten går det åt under resan?

4  likadana gravar innehåller



stenar. Hur många stenar går det då åt att bygga  gravar?

## Egyptiska talsystemet

**FACIT**

1 a) 

b) 

2 a) 21 233

b) 2 341 020

3 27 000 liter

4 68 330 st