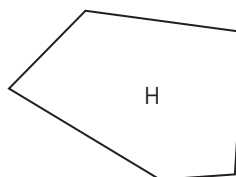
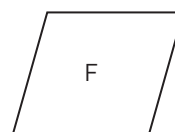
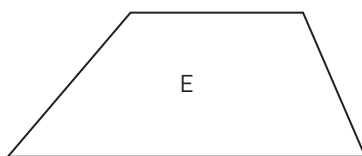
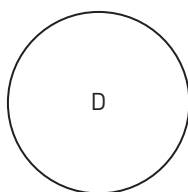
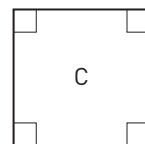
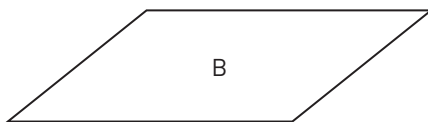
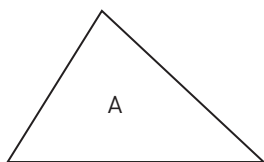


## Geometriska objekt (I)



Här ovanför finns ett antal geometriska objekt. Några av dem har flera namn.

Vilken eller vilka av objekten ovan är en

- 1 rektangel \_\_\_\_\_
- 2 triangel \_\_\_\_\_
- 3 cirkel \_\_\_\_\_
- 4 romb \_\_\_\_\_
- 5 kvadrat \_\_\_\_\_
- 6 månghörning \_\_\_\_\_
- 7 parallelogram \_\_\_\_\_

## Geometriska objekt (I)

### FACIT

- 1 C och G
- 2 A
- 3 D
- 4 C och F
- 5 C
- 6 Alla utom D
- 7 B, C, F och G