


**Träna mer 5.4 (I)**

1 a) 10 % av 40 kg = \_\_\_\_\_ b) 5 % av 700 cm = \_\_\_\_\_ c) 30 % av 80 st = \_\_\_\_\_


2 a) 200 % av 15 g = \_\_\_\_\_ b) 25 % av 12 kr = \_\_\_\_\_ c) 40 % av 30 cm = \_\_\_\_\_

3 Hur stor andel är grön? Svara i procentform.

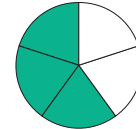
a) \_\_\_\_\_



b) \_\_\_\_\_




c) \_\_\_\_\_



4 Hur många procent av kulorna är

a) vita \_\_\_\_\_

b) gröna \_\_\_\_\_



5 Eleverna i en klass fick sätta betyg på en film de såg.


Tabellen visar resultatet.

Hur många procent av eleverna satte betyget

a) 3

b) 5


Betyg	Antal elever
1	3
2	6
3	9
4	4
5	3



6 Johanna betalade 4 500 kr i hyra för sin tvårummare. Hyran höjdes med 5 %.


a) Vilken är förändringsfaktorn?

b) Hur stor blev den nya hyran?



7 a) Vilken är förändringsfaktorn?

b) Hur mycket kostar bilen?



**Träna mer 5.4 (I)****FACIT**

- 1 a) 4 kg  
b) 35 cm  
c) 24 st
- 2 a) 30 g  
b) 3 kr  
c) 12 cm
- 3 a) 25 %  
b) 70 %  
c) 60 %
- 4 a) 60 %  
b) 40 %
- 5 a) 36 %  
b) 12 %
- 6 a) 1,05  
b) 4 725 kr
- 7 a) 0,9  
b) 225 000 kr